




# AVALIAÇÃO DIAGNÓSTICA

ALUNO(A): \_\_\_\_\_ DATA: \_\_\_\_/02/2021

PROFESSORA: \_\_\_\_\_ CLASSE ESPECIAL

1. OBSERVE A HISTÓRIA EM QUADRINHO E RESPONDA AS QUESTÕES ABAIXO:



A) QUAL O NOME DO PERSONAGEM DA HISTÓRIA?

( ) CEBOLINHA ( ) CASCÃO ( ) DUDU

B) EM QUAL CÔMODO DA CASA SE PASSA A HISTÓRIA?

( ) COZINHA ( ) BANHEIRO ( ) QUARTO

C) NO SEGUNDO QUADRINHO, QUAL É O SENTIMENTO DO CASCÃO?

( ) TRISTEZA ( ) FELICIDADE ( ) MEDO

D) SE O CASCÃO NÃO GOSTA DE ÁGUA, POR QUAL MOTIVO ELE ESTÁ LAVANDO AS MÃOS?

\_\_\_\_\_  
\_\_\_\_\_

2. A FINALIDADE DA HISTÓRIA EM QUADRINHOS ACIMA É:

( ) ENSINAR UMA RECEITA

( ) CONTAR UMA PIADA

( ) ENSINAR A SE PROTEGER

3. QUANTAS SÍLABAS TEM A PALAVRA ABAIXO?

# CORONAVÍRUS

( ) 4      ( ) 11      ( ) 5

4. LEIA A LISTA DOS ALUNOS DA CLASSE ESPECIAL E RESPONDA:

01	ALISSON
02	ANA
03	BIANCA
04	DIENIFER
05	HUGO
06	?????????
07	RAIANE
08	STHEFANE

SEGUINDO A ORDEM ALFABÉTICA, QUAL NOME SERIA O DE NÚMERO 05?

- ( ) ADRIAN
- ( ) LEONARDO
- ( ) TIAGO

5. OBSERVE A FIGURA DO CENTRO DO CÍRCULO E FAÇA UM X NO DESENHO QUE RIMA:



VEJA A CENA ABAIXO E FAÇA UM X NA FRASE QUE CONTA O QUE ACONTECE NESTA CENA:




- ( ) O GATO CORRE

NO MATO

- ( ) O GATO

- ( ) O GATO SENTA NO GALHO

- ( ) O GATO SOBE NO GALHO



7. OBSERVE AS CRIANÇAS NA FIGURA ABAIXO E ESCREVA UMA FRASE BEM LEGAL:



---

---

---

---

## MATEMÁTICA

1. A PROFESSORA DA CLASSE ESPECIAL CONSTRUIU UM QUADRO NUMÉRICO E DEIXOU ALGUNS NÚMEROS SEM PREENCHER. PREENCHA O QUADRO E RESPONDA AS QUESTÕES ABAIXO:

<b>50</b>	<b>51</b>	<b>52</b>			<b>55</b>				<b>59</b>
	<b>61</b>				<b>65</b>				
<b>70</b>				<b>74</b>			<b>77</b>		
		<b>82</b>			<b>85</b>				

- CIRCULE DE **VERMELHO** OS NÚMEROS PARES.
- FAÇA UM X DE **AZUL** NOS NÚMEROS ÍMPARES.
- PINTE DE **AMARELO** OS NÚMEROS COM DEZENA EZATA.
- CIRCULE DE **VERDE** TODOS OS QUE POSSUEM O NÚMERO NOVE NA UNIDADE.

2. OBSERVE OS NÚMEROS E LIGUE CORRETAMENTE:

12	SETE
24	ONZE
7	VINTE E QUATRO
11	VINTE
18	DOZE
20	DEZOITO

3. ANA TEM UMA COLEÇÃO DE LIVROS. ELA ATUALIZOU E VERIFICOU QUE JÁ POSSUI 19 LIVROS, COMO MOSTRA A FIGURA:



- PINTE A LETRA QUE REPRESENTA O NÚMERO DE LIVROS QUE ANA ATUALIZOU:

**A**

$10 + 8$

**C**

$10 + 19$

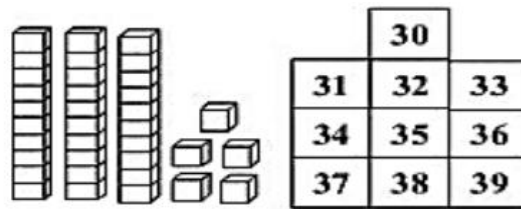
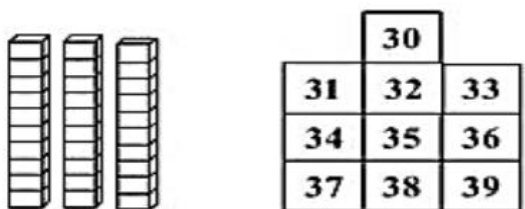
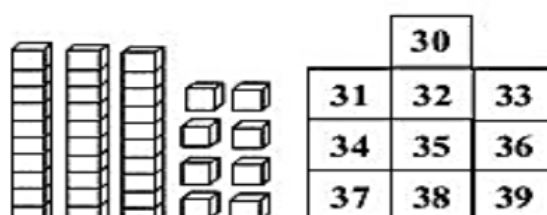
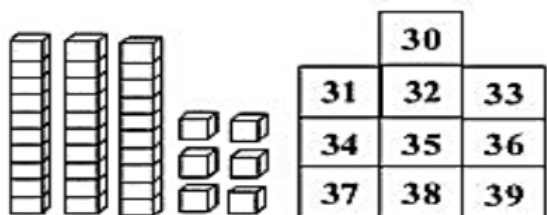
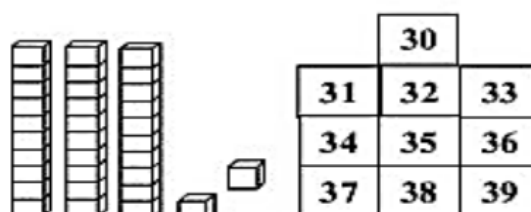
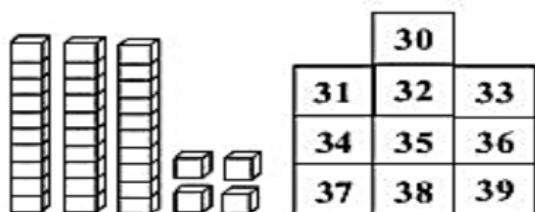
**B**

$10 + 9$

**D**

$10 + 10$

4. PINTE O NÚMERO CORRESPONDENTE A QUANTIDADE REPRESENTADA PELO MATERIAL DOURADO:



5. COMPLETE DE ACORDO COM O INDICADO EM CADA COLUNA:



ANTES	ENTRE	DEPOIS
<input type="text"/> 40	10 <input type="text"/> 12	20 <input type="text"/>
<input type="text"/> 12	19 <input type="text"/> 21	13 <input type="text"/>
<input type="text"/> 32	51 <input type="text"/> 53	41 <input type="text"/>
<input type="text"/> 51	9 <input type="text"/> 11	30 <input type="text"/>
<input type="text"/> 19	60 <input type="text"/> 62	17 <input type="text"/>
<input type="text"/> 23	59 <input type="text"/> 61	59 <input type="text"/>

6. RESOLVA AS OPERAÇÕES E RESPONDA AS QUESTÕES ABAIXO:

$$\begin{array}{r|l} \text{D} & \text{U} \\ 1 & 5 \\ + & \\ \hline 1 & 4 \end{array}$$

$$\begin{array}{r|l} \text{D} & \text{U} \\ 2 & 2 \\ + & \\ \hline 1 & 3 \end{array}$$

$$\begin{array}{r|l} \text{D} & \text{U} \\ 2 & 1 \\ + & \\ \hline 2 & 7 \end{array}$$

$$\begin{array}{r|l} \text{D} & \text{U} \\ 2 & 7 \\ - & \\ \hline 1 & 5 \end{array}$$

$$\begin{array}{r|l} \text{D} & \text{U} \\ 1 & 7 \\ - & \\ \hline 1 & 2 \end{array}$$

$$\begin{array}{r|l} \text{D} & \text{U} \\ 3 & 8 \\ - & \\ \hline 2 & 6 \end{array}$$

- QUAL FOI O MAIOR RESULTADO? E O MENOR?

MAIOR: \_\_\_\_\_

MENOR: \_\_\_\_\_

- QUAL A DIFERENÇA ENTRE O MAIOR E O MENOR RESULTADO? REPRESENTA ESSA DIFERENÇA.

R: \_\_\_\_\_

- COLOQUE OS RESULTADOS DAS OPERAÇÕES EM ORDEM CRESCENTE (DO MENOR PARA O MAIOR):

\_\_\_\_\_

- ESCREVA POR EXTENSO OS RESULTADOS DAS OPERAÇÕES ACIMA:

\_\_\_\_\_  
 \_\_\_\_\_  
 \_\_\_\_\_  
 \_\_\_\_\_  
 \_\_\_\_\_