



# Prefeitura do Município de Mandaguçu

ESTADO DO PARANÁ

DEPARTAMENTO DE EDUCAÇÃO E CULTURA

Rua Bernardino Bogo, 155 FONE/FAX (44) 3245-5588 /3245-5590

CNPJ 76.285.329/0001-08

E-mail: educamandagua@gmail.com



DEPARTAMENTO DE EDUCAÇÃO

MANEJANDO O FUTURO

2008

Continuar e Avançar

## AVALIAÇÃO DIAGNÓSTICA – 4º ANO

ALUNO(A): \_\_\_\_\_ TURMA: \_\_\_\_\_

PROFESSORA: \_\_\_\_\_ DATA: \_\_\_/\_\_\_/2021

### LÍNGUA PORTUGUESA


1) Veja a figura abaixo.



Qual é o nome dessa figura?

- A) BAGAÇO.
- B) BARALHO.
- C) PALÁCIO.
- D) PALHAÇO.

2) Veja a cena abaixo.



Faça um X na frase que conta o que acontece nessa cena.

- A) O GATO CORRE NO MATO.
- B) O GATO GOSTA DO GALO.
- C) O GATO SENTA NO PRATO.
- D) O GATO SOBE NO GALHO.

3) Faça um X na frase que está escrita corretamente.

- A) O COELHINHO E O RATINHO NADAM NA LAGOA COM O SAPINHO.
- B) O COELHINHO E O RATINHO NADAM NA LAGOA COM O SAPINHO.
- C) O COELHINHO E O RATINHO NADAM NA LAGOA COM O SAPINHO.
- D) O COELHINHO E O RATINHO NADAM NA LAGOA COM O SAPINHO.

4) Leia o texto e responda as questões:

### A TARTARUGUINHA

ERA UM DIA CHUVOSO, DAQUELES QUE DÃO PREGUIÇA. O PORTÃO ESTAVA TRANCADO E EU PRECISAVA ABRÍ-LO, PEGUEI O GUARDA-CHUVA E LÁ FUI EU.



PRÓXIMO DO PORTÃO BATI O PÉ EM ALGO, OLHEI PARA O CHÃO E VI UMA TARTARUGUINHA TODA MOLHADA. LEVEI-A PARA DENTRO, SEQUEI-A COM UMA TOALHA.

MAIS TARDE DESCOBRI QUE ERA DA VIZINHA, ENTREGUEI-A MUITO SATISFEITA, EU JAMAIS SABERIA CUIDAR DE UM ANIMAL TÃO PEQUENINO.

A) QUAL O TÍTULO DO TEXTO?

---

---

B) COMO ESTAVA O CLIMA?

- ( ) ENSOLARADO.  
( ) CHUVOSO.  
( ) NUBLADO.

C) O QUE TINHA PERTO DO PORTÃO?

---

---

D) COMO A TARTARUGUINHA ESTAVA?

- ( ) MACHUCADA.  
( ) DOENTE.  
( ) MOLHADA.

E) DE QUEM ERA A TARTARUGA?

---


---

F) POR QUE O NARRADOR ACHAVA QUE NÃO SABERIA CUIDAR DO ANIMAL?

---

---

5) ESCREVA O NOME DE CADA FIGURA E PINTE-AS BEM COLORIDAS.



6) ESCOLHA 3 PALAVRAS (DO EXERCÍCIO ANTERIOR) E ESCREVA UMA FRASE PARA CADA UMA:

1 - \_\_\_\_\_

\_\_\_\_\_

2 - \_\_\_\_\_


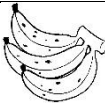
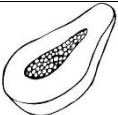

\_\_\_\_\_

3 - \_\_\_\_\_


\_\_\_\_\_

### MATEMÁTICA

1) A TURMA DO 4º ANO FEZ UMA PESQUISA SOBRE A PREFERÊNCIA DAS CRIANÇAS ENTRE A OPÇÃO DE FRUTAS:

Fruta				
Votos	6	5	8	10

NO GRÁFICO ABAIXO PINTE A QUANTIDADE DE VOTOS QUE CADA FRUTA RECEBEU:



**2) RESPONDA SOBRE O GRÁFICO:**

a) QUAL A FRUTA COM MAIOR NÚMERO DE VOTOS? \_\_\_\_\_

b) QUAL A FRUTA COM MENOR NÚMERO DE VOTOS? \_\_\_\_\_

c) QUANTAS CRIANÇAS PARTICIPARAM DA PESQUISA?  
\_\_\_\_\_

d) QUANTOS VOTOS O MAMÃO TEVE A MAIS QUE A MAÇÃ?  
\_\_\_\_\_

e) QUANTOS VOTOS A MAÇÃ PRECISA PARA EMPATAR COM A MELANCIA?  
\_\_\_\_\_

**3) DESCUBRA O SEGREDO DA SEQUÊNCIA E CONTINUE:**

45	47	49							
----	----	----	--	--	--	--	--	--	--

65	75	85							
----	----	----	--	--	--	--	--	--	--

12	16	20							
----	----	----	--	--	--	--	--	--	--

**4) OBSERVE O NÚMERO 275. EM RELAÇÃO A SUA COMPOSIÇÃO É CORRETO AFIRMAR QUE ELE É COMPOSTO POR:**

- a) 2 DEZENAS E 7 UNIDADES.
- b) 2 CENTENAS, 7 DEZENAS E 5 UNIDADES.
- c) 2 UNIDADES, 7 DEZENAS E 5 CENTENAS.
- d) 2 CENTENAS, 7 UNIDADES E 5 DEZENAS.

**5) COLOQUE O ANTECESSOR E O SUCESSOR DOS NÚMEROS:**

	<b>143</b>	
--	------------	--

	<b>213</b>	
--	------------	--

	<b>267</b>	
--	------------	--

	<b>312</b>	
--	------------	--

**6) ESCREVA OS NUMERAIS ABAIXO POR EXTENSO:**

57 \_\_\_\_\_

102 \_\_\_\_\_

128 \_\_\_\_\_

188 \_\_\_\_\_

267 \_\_\_\_\_

543 \_\_\_\_\_

7) EM UM PACOTE TEM 35 PIRULITOS. E EM 3 PACOTES?

- a) 105.
- b) 35.
- c) 45.
- d) 100.




8) PAULO GANHOU UM LIVRO COM 45 FOLHAS ESCRITAS E 27 COM ILUSTRAÇÕES. QUANTAS PÁGINAS TEM O LIVRO?



- a) 65 PÁGINAS.
- b) 72 PÁGINAS.
- c) 55 PÁGINAS.
- d) 45 PÁGINAS.

9) FELIPE JUNTOU 185 TAMPINHAS PARA FAZER UM BRINQUEDO. JÁ USOU 52. QUANTAS TAMPINHAS AINDA RESTAM?

- a) 103.
- b) 112.
- c) 133.
- d) 75.



10) RESOLVA AS OPERAÇÕES ABAIXO:

a) $65 - 29 =$	b) $56 + 35 =$	c) $182 - 31 =$	d) $163 + 146 =$	e) $43 \times 2 =$
----------------	----------------	-----------------	------------------	--------------------