



ESCOLA MUNICIPAL \_\_\_\_\_ DATA \_\_\_\_/\_\_\_\_/2021

ALUNO (A): \_\_\_\_\_

PROFESSORA: \_\_\_\_\_ TURMA: 3º ANO

### AVALIAÇÃO DIAGNÓSTICA

1- COMPLETE O ALFABETO COM AS LETRAS QUE ESTÃO FALTANDO:






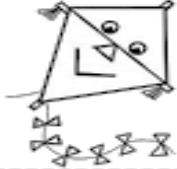



A			D	E		G		I	
K		M			P		R		
	V		X						

2- CIRCULE COM LÁPIS DE COR, NA ATIVIDADE ANTERIOR, SEGUINDO A LEGENDA:

■ VERMELHO AS VOGAIS

■ CONSOANTES DE AZUL

3- OBSERVE CADA FIGURA ABAIXO E ESCREVA O NOME DELAS:

		
_____	_____	_____
		
_____	_____	_____
		
_____	_____	_____

4- ORDEM ALFABÉTICA:

COLOQUE A PALAVRAS ABAIXO EM ORDEM ALFABÉTICA, PARA ISSO VOCÊ DEVE OLHAR A PRIMEIRA LETRA DE CADA PALAVRA, ENTÃO, VAMOS LÁ!

BICICLETA – GATO – LÁPIS – ANEL – FADA – CARRINHO – JACARÉ – MACACO - DADO

1 \_\_\_\_\_

4 \_\_\_\_\_

7 \_\_\_\_\_

2 \_\_\_\_\_

5 \_\_\_\_\_

8 \_\_\_\_\_

3 \_\_\_\_\_

6 \_\_\_\_\_

9 \_\_\_\_\_

5- OBSERVE A CENA ABAIXO, E ASSINALE COM UM X A FRASE CORRETA SOBRE ELA:




( ) A MENINA E O MENINO ESTÃO VENDENDO UM LEÃO.

( ) A MENINA E O MENINO ESTÃO VENDENDO O PORQUINHO.

( ) A MENINA E O MENINO ESTÃO BRINCANDO DE RODA.

5- OBSERVE A FIGURA DO ANIMAL ABAIXO E ESCREVA UMA FRASE SOBRE ELE:






1- COMPLETE A SEQUÊNCIA:

1				5					10
		13					18		
	22								
						37			
			44					49	

2 - OBSERVE A TABELA ACIMA E PINTE OS NÚMEROS PARES.

3- COLOQUE O ANTECESSOR E O SUCESSOR:

	28	
--	----	--

	10	
--	----	--

	23	
--	----	--

	35	
--	----	--

	6	
--	---	--

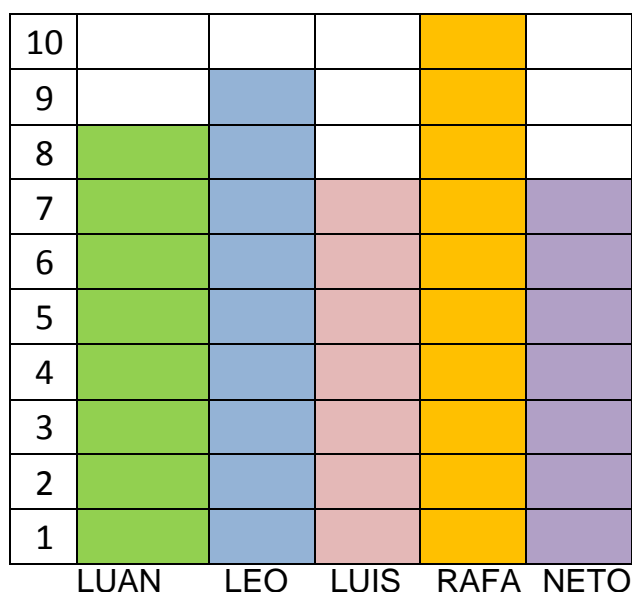
	47	
--	----	--

	59	
--	----	--

	77	
--	----	--

	94	
--	----	--

4- TIAGO FEZ UM GRÁFICO PARA REGISTRAR A QUANTIDADE DE BRINQUEDOS SEUS COLEGAS DO FUTEBOL. OBSERVE:



- DE ACORDO COM O GRÁFICO RESPONDA:

A) QUAL É A QUANTIDADE DE BRINQUEDOS DO LUAN?  
\_\_\_\_\_

B) QUAIS COLEGAS POSSUEM A MESMA QUANTIDADE DE BRINQUEDOS?  
\_\_\_\_\_

C) QUAL É O COLEGA COM MAIOR QUANTIDADE DE BRINQUEDOS?  
\_\_\_\_\_

D) QUANTOS BRINQUEDOS RAFA TEM A MAIS DO QUE LUIS?  
\_\_\_\_\_

4- RESOLVA AS SITUAÇÕES PROBLEMAS:

A) NUMA CAIXA TEM 18 BOLINHAS DE GUDE VERDES E 10 AZUIS. AO TODO, QUANTAS BOLINHAS DE GUDE TÊM NESSA CAIXA?

R= \_\_\_\_\_

B) MARLI FOI A FEIRA, COMPROU 18 LARANJAS E COLOCOU EM SUA SACOLA. DURANTE O CAMINHO ELA TROPEÇOU E CAIRAM 7 LARANJAS NO CHÃO. QUANTAS LARANJAS FICARAM NA SACOLA?

R= \_\_\_\_\_

10. RESOLVA AS OPERAÇÕES:

$27 + 12 =$	$70 + 15 =$	$52 + 6 =$	$67 - 23 =$	$18 - 15 =$	$45 - 4 =$