



AVALIAÇÃO DIAGNÓSTICA DE LÍNGUA PORTUGUESA

2º ANO _____

DATA: ____/____/2021

COMO É BOM TER VOCÊ AQUI PARA NOS MOSTRAR O QUE VOCÊ JÁ SABE!!! MOSTRE QUE VOCÊ É FERA NA APRENDIZAGEM!!!!

1. PARA COMEÇAR ESCREVA SEU NOME COMO A MÔNICA E O CEBOLINHA FEZ.






2. PARA ESCREVER O SEU NOME VOCÊ UTILIZOU ALGUMAS LETRAS DO ALFABETO. COMPLETE O ALFABETO.

A large U-shaped grid for writing the alphabet. The first cell of the top row contains the letter 'A' and the last cell of the bottom row contains the letter 'Z'. The grid is surrounded by illustrations of flowers and butterflies.

3. SABEMOS QUE O NOSSO ALFABETO É FORMADO POR VOGAIS E CONSOANTES. PINTE NO ALFABETO AS VOGAIS. PODE USAR AS CORES QUE VOCÊ QUISER.



4. ESCREVA DO JEITO QUE VOCÊ SOUBER O NOME DOS DESENHOS ABAIXO.



5. MARQUE UM (X) NA PALAVRA QUE COMEÇA COM A PRIMEIRA LETRA DO ALFABETO.

() BOLA

() AMORA

() CASA

() DEDO

6. VEJA A FIGURA E DEPOIS FAÇA UM (x) ONDE ESTÁ ESCRITO O QUE VOCÊ VÊ.


() DUAS CRIANÇAS CHORANDO.

() CRIANÇAS DANÇANDO.

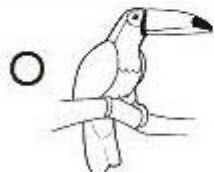
() DUAS CRIANÇAS BRINCANDO DE PULAR CORDA.



7. OBSERVE OS DESENHOS E COMPLETE A FRASE.



CHUTOU A



FICA NO ALTO DA



8. LIGUE CADA IMAGEM A SUA RESPECTIVA FRASE.



MARIANA GOSTA DE BRINCAR DE BONECA.



O CACHORRO BIDU GOSTA DE OSSO.



JOÃO ESTÁ LENDO UM LIVRO DE HISTÓRIA.

AValiação DIAGNÓSTICA DE MATEMÁTICA

1. ESTE É O CALENDÁRIO DO PRIMEIRO MÊS DO ANO. OBSERVE COM ATENÇÃO E SIGA OS COMANDOS ABAIXO.

CALENDÁRIO JANEIRO - 2021



DOMINGO	SEGUNDA - FEIRA	TERÇA - FEIRA	QUARTA - FEIRA	QUINTA - FEIRA	SEXTA - FEIRA	SÁBADO
					1	2
3	4	5	6	7	8	9
10	11	12	13	14	15	16
17	18	19	20	21	22	23
24	25	26	27	28	29	30
31						

A. PINTE O NÚMERO SEIS DE VERMELHO.

B. PINTE O NÚMERO QUATRO DE AMARELO.









C. PINTE O NÚMERO UM DE AZUL.

D. PINTE O NÚMERO DOZE DE VERDE.

E. PINTE O NÚMERO QUINZE DE MARROM.


F. PINTE O NÚMERO VINTE DE LARANJA.

2. VAMOS COLORIR OS CÍRCULOS DE ACORDO COM O NÚMERO DE ELEMENTOS DE CADA CONJUNTO. DEPOIS ESCREVA OS NÚMEROS QUE REPRESENTAM AS QUANTIDADES DE CADA CONJUNTO.

		<input type="text"/>
		<input type="text"/>
		<input type="text"/>
		<input type="text"/>

3. RESOLVA AS SITUAÇÕES PROBLEMAS ABAIXO.

A. UM FAZENDEIRO TEM 8 VACAS E 4 BOIS. QUANTOS ANIMAIS O FAZENDEIRO TEM NO TOTAL?



B. O AQUÁRIO DA ALICE POSSUI 5 PEIXINHOS DOURADOS E 2 PEIXINHOS AZUIS. QUANTOS PEIXINHOS TÊM NO AQUÁRIO DA ALICE?



C. PEDRO TINHA 7 CARRINHOS, MAS PERDEU 3. COM QUANTOS CARRINHOS PEDRO FICOU?



D. LARA GANHOU 10 REAIS, MAS COMPROU UMA BONECA DE 8 REAIS. QUANTOS REAIS SOBRARAM PARA LARA?



BOA SORTE!

